





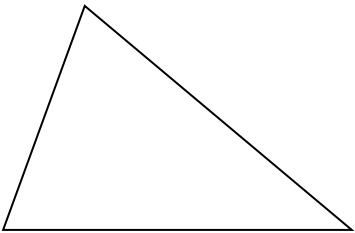

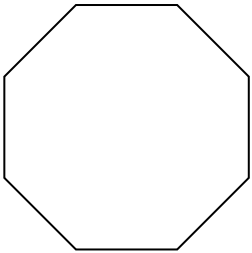
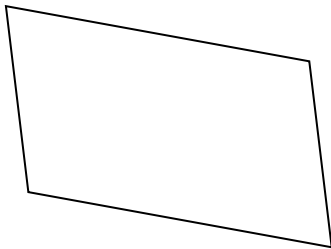
שמי: _____

אבזרים למבדק: דף שקוף לבדיקת הצורות

1 האם לצורות המסורטטות כאן יש סימטרייה סיבובית? סמנו (כן) או (לא).

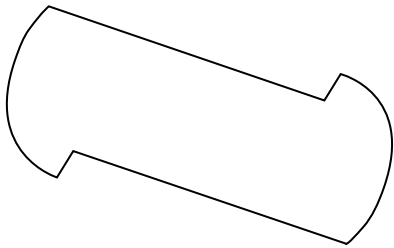
	<p>בן כן לא</p>		<p>אן כן לא</p>
	<p>דן כן לא</p>		<p>גן כן לא</p>

2 האם לצורות המסורטטות כאן יש סימטרייה שיקופית? סמנו (כן) או (לא).


	<p>בן כן לא</p>		<p>אן כן לא</p>
	<p>דן כן לא</p>		<p>גן כן לא</p>

המשך

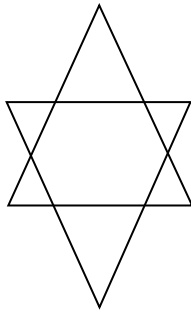
3 לאילו מהצורות יש גם סימטרייה שיקופית וגם סימטרייה סיבובית? הקיפו את האותיות שלידן.



בן

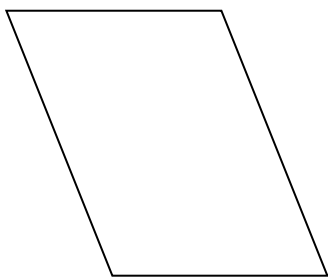


אן

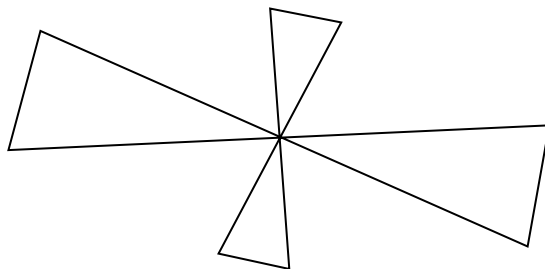


גן

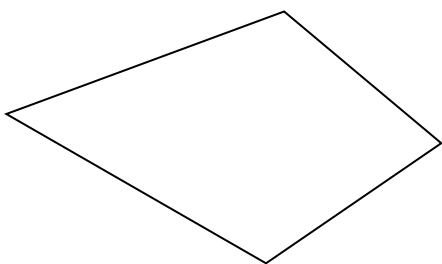
4 לאילו מהצורות יש סימטרייה סיבובית אך לא שיקופית? הקיפו את האותיות שלידן.



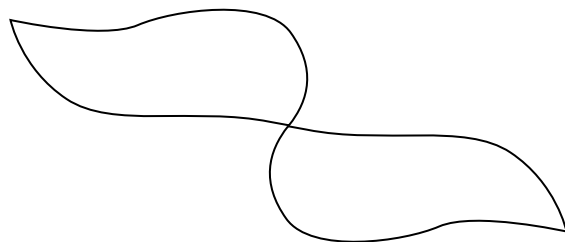
בן



אן



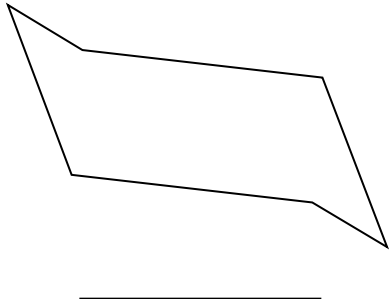
דן



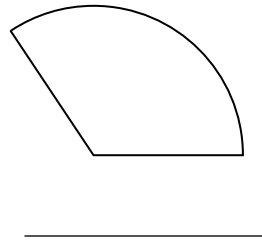
גן

המשך


5 האם הצורות הן סימטריות? סמנו **כן** או **לא**.
 אם **כן** רשמו אילו סימטריות יש להן.




בן
 כן
 לא



אן
 כן
 לא

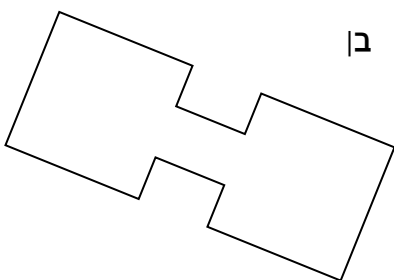


דן
 כן
 לא

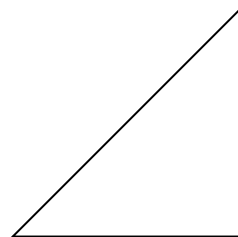


גן
 כן
 לא

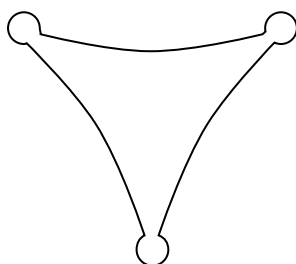
6 סמנו את כל קווי הסימטרייה בצורות האלה.



בן



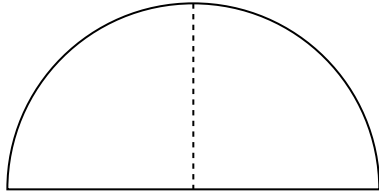
אן



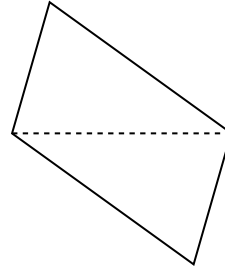
גן

המשך

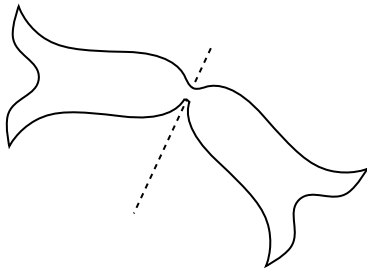
7 האם הקווים המרוסקים הם קווי סימטרייה? סמנו (כן) או (לא).



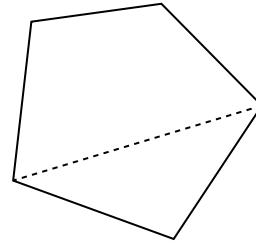
בן
כן
לא



אן
כן
לא




דן
כן
לא



גן
כן
לא


אתגר

8 מהי דרגת הסימטרייה הסיבובית של כל אחת מהצורות האלה?



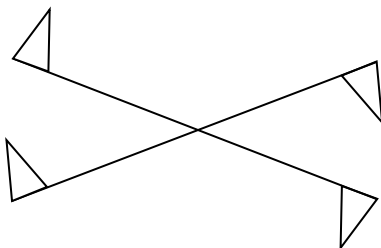
בן

דרגת הסימטרייה: _____




אן

דרגת הסימטרייה: _____



דן

דרגת הסימטרייה: _____



גן

דרגת הסימטרייה: _____


המשך

- 9 לאילו מסוגי המשולשים יש סימטרייה שיקופית? הקיפו את האותיות שלידם.
 א. משולש שונה-צלעות
 ב. משולש שווה-צלעות
 ג. משולש שווה-שוקיים שאינו שווה-צלעות

- 10 לאילו מסוגי המשולשים יש סימטרייה סיבובית? הקיפו את האותיות שלידם.
 א. משולש שונה-צלעות
 ב. משולש שווה-צלעות
 ג. משולש שווה-שוקיים שאינו שווה-צלעות


- 11 האם למרובעים המסורטטים כאן יש סימטרייה שיקופית? סמנו (כן) או (לא).
 אם סימנתם (כן) – סרטטו את כל קווי הסימטרייה של המרובע.

ב. טרפז




כן / לא

א. מקבילית



כן / לא

ד. מלבן



כן / לא

ג. ריבוע



כן / לא

- 12 לאילו מהמרובעים שבשאלה 11 יש סימטרייה סיבובית? _____