

שמי: _____

1 לפניכם פסים שאורכם כאורך היחידה. סמנו עליהם את המספרים הנתונים.

א) $\frac{2}{3}$

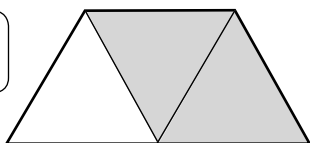
ב) $\frac{3}{6}$

ג) $1\frac{1}{3}$

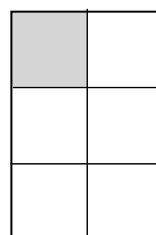
ד) $\frac{10}{6}$

2 איזה חלק מכל צורה צבוע?

א)



ב)



המשך

3 לכל מספר מעורב כתבו שבר מתאים,
ולכל שבר כתבו מספר מעורב.

א| $\frac{5}{3} = \boxed{}$
מספר
מעורב

ד| $1\frac{1}{3} = \boxed{}$
שבר

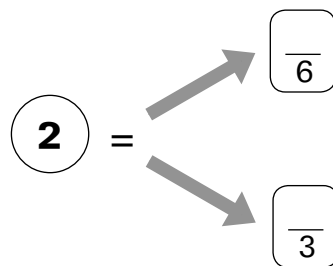
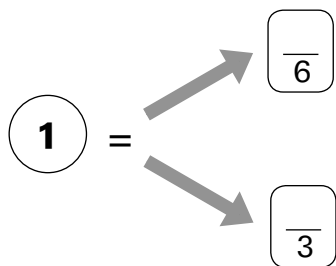
ב| $\frac{7}{3} = \boxed{}$

ה| $2\frac{1}{6} = \boxed{}$
שבר

ג| $\frac{8}{6} = \boxed{}$

ו| $3\frac{2}{3} = \boxed{}$
שבר

4 השלימו.



5 השלימו.

א| $\boxed{\frac{1}{3}} = \boxed{\frac{}{6}}$

ג| $\boxed{\frac{4}{3}} = \boxed{\frac{}{6}}$


ב| $\boxed{\frac{4}{6}} = \boxed{\frac{}{3}}$

ד| $\boxed{\frac{10}{6}} = \boxed{\frac{}{3}}$

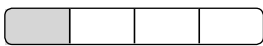
המשך

שמי: _____


1 כתבו כל שבר במספרים ובמילים.

אן 



במילים

בן 


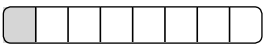
במילים

גן 

במילים

דן  

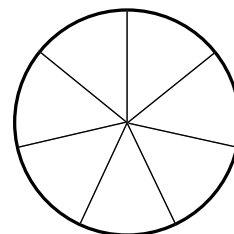
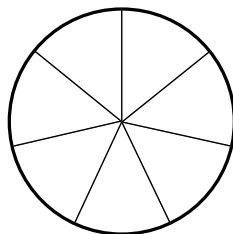
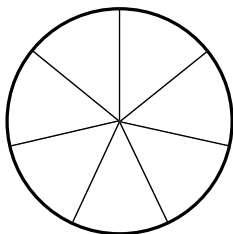
במילים

הן  

במילים

2 העיגול הוא היחידה. צבעו חלקים מתאימים לפי המספרים

$2\frac{1}{7}$ בצבע ירוק ו- $\frac{5}{7}$ בצבע כחול.



איזה מספר מתאים לחלקים שלא צבעתם?

המשך

3 השלימו את הטבלה.

מספר מעורב או מספר שלם (אם אפשר)	השבר	המכנה	המונה
		5	7
		7	5
		12	2
		4	8
		2	7

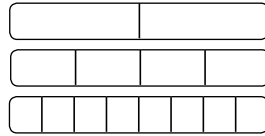
4 השלימו אפשרויות שונות, אם אפשר.

שברים גדולים מ-1 $\frac{\quad}{5}$ $\frac{\quad}{5}$ $\frac{\quad}{5}$

שברים קטנים מ-1 $\frac{\quad}{5}$ $\frac{\quad}{5}$ $\frac{\quad}{5}$

שברים שווים ל-1 $\frac{\quad}{5}$ $\frac{\quad}{5}$ $\frac{\quad}{5}$

5 התבוננו במקלות האלה:



כתבו שוויונות מתאימים:

א) $\frac{1}{2} = \frac{1}{8}$

ג) $\frac{1}{2} = \frac{1}{4}$

ב) $\frac{1}{4} = \frac{1}{8}$

ד) $\frac{1}{4} = \frac{1}{8}$

6 כתבו אפשרויות שונות.

א. שברים שקטנים מ- $\frac{1}{2}$: $\frac{1}{4}$ $\frac{1}{8}$ $\frac{1}{10}$

ב. שברים שגדולים מ- $\frac{1}{2}$ וקטנים מ-1: $\frac{3}{4}$ $\frac{5}{8}$ $\frac{7}{8}$

7 כתבו < או > או = .

א) $\frac{1}{5}$ ----- $\frac{1}{7}$

ג) $\frac{3}{10}$ ----- $\frac{3}{4}$

ה) $\frac{5}{3}$ ----- 2

ב) $\frac{4}{5}$ ----- $\frac{8}{9}$

ד) $\frac{3}{12}$ ----- $\frac{4}{12}$

ו) $2\frac{1}{5}$ ----- $\frac{1}{7}$

שמי: _____

1 השלימו את הטבלה.

השבר במילים	השבר במספרים	המכנה	המונה
	<input type="text"/>	2	7
	<input type="text"/>	10	3
	גדול מ-1 <input type="text"/>		5
	קטן מ-1 <input type="text"/>		5
	גדול מ-1 <input type="text"/>	4	
	שווה ל-1 <input type="text"/>	4	

2 שיר וגיל צבעו יחד גדר.

שיר צבעה $\frac{1}{4}$ מהגדר וגיל צבע $\frac{1}{7}$ מהגדר.
מי מהם צבע יותר? נמקו.

המשך ◀

3 כתבו שבר לכל מספר מעורב ומספר מעורב לכל שבר.

א| $\frac{7}{6} = \boxed{}$
 מספר מעורב

ג| $1\frac{1}{10} = \boxed{}$
 שבר

ב| $\frac{9}{2} = \boxed{}$

ד| $4\frac{1}{4} = \boxed{}$

4 א. כתבו שברים שונים השווים ל-1.

$1 = \boxed{}$ $1 = \boxed{}$ $1 = \boxed{}$

ב. כתבו שברים שונים השווים ל- $\frac{1}{2}$.

$\frac{1}{2} = \boxed{}$ $\frac{1}{2} = \boxed{}$ $\frac{1}{2} = \boxed{}$

5 כתבו < או > או = .

א| $\frac{1}{2}$ ----- $\frac{1}{5}$

ב| $\frac{1}{2}$ ----- $\frac{2}{4}$

ה| $\frac{0}{3}$ ----- $\frac{0}{4}$

ב| $\frac{2}{7}$ ----- $\frac{4}{7}$

ד| $\frac{3}{5}$ ----- $\frac{5}{3}$

ו| $\frac{2}{3}$ ----- $\frac{2}{9}$

6 פתרו.

א| $\frac{1}{6} + \boxed{} = 1$

ג| $1 - \frac{1}{2} = \boxed{}$

ב| $\frac{5}{7} + \boxed{} = 1$

ד| $1 - \frac{3}{10} = \boxed{}$