



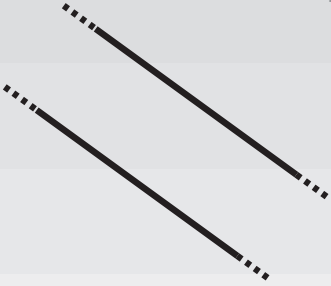
ישרים מקבילים

מבדק


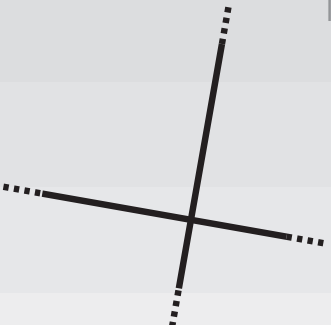
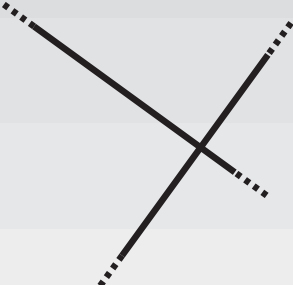
שמי:

- מבדקים למבדק: מכשירי סרטוט (שני סרגלים, משלש סרטוט, עפרון מחדד)
- כרטיס מלבני

1 כתבו ליד כל זוג ישרים: מקבילים או לא מקבילים.

<p>ג </p>  <p>_____</p>	<p>ב </p>  <p>_____</p>	<p>א </p>  <p>_____</p>
--	---	--

2 כתבו ליד כל זוג ישרים: מאונכים או לא מאונכים.


<p>ג </p>  <p>_____</p>	<p>ב </p>  <p>_____</p>	<p>א </p>  <p>_____</p>
---	--	---

◀ המשך


ישרים מקבילים

מבדק

3 סרטטו ישר מקביל לישר הנתון.



4 סרטטו זוג ישרים מקבילים שהמרחק ביניהם הוא 3 ס"מ.



5 סמנו בצבע זוגות של צלעות מקבילות במצולעים האלה, קל זוג בצבע שונה.

