

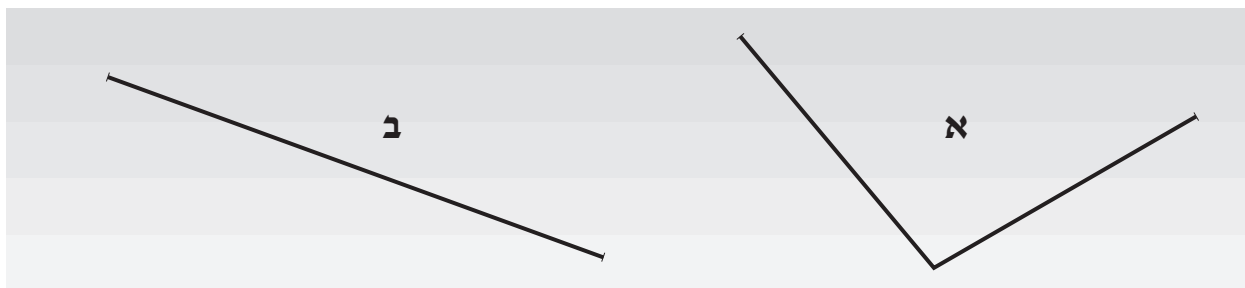
מדידת אורך

מבדק

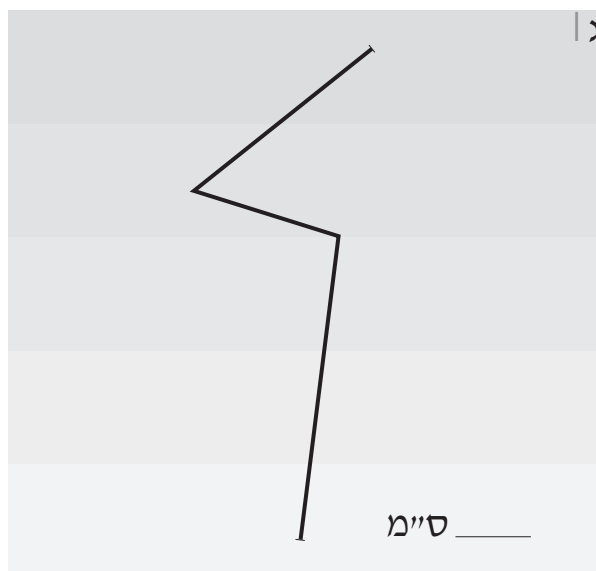
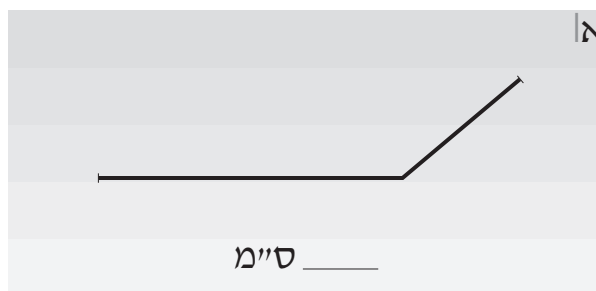
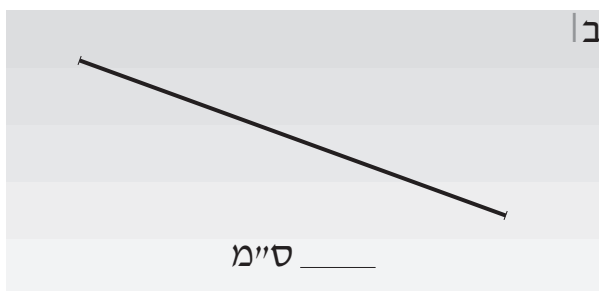
שמי: _____

אנזרים למבחן: סרגל רגיל, פס קרטון

1 איזה קו ארוך יותר? _____



2 מדדו בסרגל כל אחד מהקווים האלה ורשמו מהו ארכו.



◀ המשך

מדידת אורך

מבדק

3 השלימו בכל סעיף את היחידה המתאימה ביותר: מ', ס"מ, מ"מ, ק"מ, דצ"מ.

- א | אורך החדר הוא 3 _____ .
 ב | אורך המחק הוא 3 _____ .
 ג | המרחק בין תל אביב לאילת הוא 354 _____ .
 ד | עבי הגפרור הוא 2 _____ .
 ה | אורך התגורה הוא 6 _____ .
 ו | עמק ברכת השחיה הוא 2 _____ .

4 השלימו.

א | _____ מ' = 800 ס"מ

ג | _____ ס"מ = 2 מ'

ב | _____ ק"מ = 2000 מ'

ד | _____ דצ"מ = 30 ס"מ

5 שי מדד את אורך השלחן בעזרת העפרון שלו ומצא שארכו 10 עפרונות. נעמה מדדה את אותו שלחן בעפרון שלה ומצאה שארכו 15 עפרונות. מדוע קבלו הילדים תוצאות שונות?