

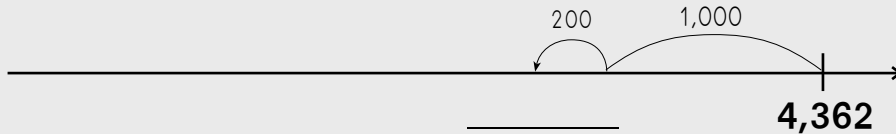
המספרים עד 10,000 - חלק ג (יחידות א-ב)

מבדק

שמי: _____

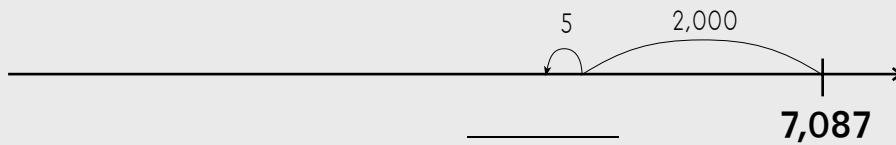
1 השלימו את המספר שאליו מגיעים, וכתבו תרגיל מתאים.

א|



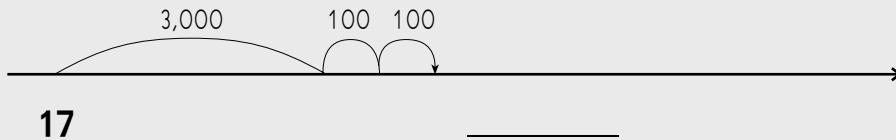
תרגיל: _____

ב|



תרגיל: _____

ג|



תרגיל: _____

2 פתרו וסמנו על ישר המספרים.

$$3,743 - 10 + 1,000 = \underline{\hspace{2cm}}$$

המשך

לכל אחד מהציורים על ישר המספרים מתאימים תרגילי חיבור ותרגילי חיסור שונים. התלמידים צריכים לכתוב אחד מהם.

3 פתרו:

א| $3,606 + 200 =$ _____ ג| $7,278 - 7,200 =$ _____

ב| $9,430 + 107 =$ _____ ד| $5,408 - 5,008 =$ _____

4 דין ושני קנו כל אחד 2,302 עוגיות, אבל האריזות בתוך החבילות שהם קבלו היו שונות. כיצד זה יתכן? הביאו דגמאות וכתבו תרגילים מתאימים. (אפשר להעזר בציורים).

החבילה של דין

תרגיל: _____

החבילה של שני

תרגיל: _____

5 כתבו מספרים מתאימים. (אפשר להעזר ב"ציור בקצור").

א | 14 מאות ו-5 יחידות _____

ב | 4 מאות ו-12 עשרות _____

ג | 2 אלפים ו-10 מאות _____

6 פתרו. (אפשר להעזר ב"ציור בקצור").

א | $17 \times 10 =$ _____

ב | $13 \times 100 =$ _____

ג | $6 \times 1,000 + 14 \times 1 =$ _____

7 א | בכמה שטרות של 100 ש"ח אפשר לשלם 3,000 ש"ח? _____

ב | בכמה מטבעות של 10 ש"ח אפשר לשלם 1,000 ש"ח? _____

שמי: _____

1 השלימו את המספר הקודם ואת המספר העוקב.

א| _____ 5,700 _____ ג| _____ 5,899 _____

ב| _____ 7,000 _____ ד| _____ 3,029 _____

2 פתרו: (אפשר להעזר ב"ציור בקצור" של משטחים או של ישר המספרים.)

א| $3,240 - 2 =$ _____

ב| $1,500 - 20 =$ _____

ג| $3,000 - 100 =$ _____

ד| $4,000 - 20 =$ _____

ה| $2,700 + 300 =$ _____

ו| $1,480 + 20 =$ _____

ז| $3,995 + 5 =$ _____

המשך <

3 פתרו בעזרת קפיצות על ישר המספרים הריק.

א| $7,504 + 806 =$ _____



ב| $7,240 - 2,350 =$ _____



4 פתרו.

א|
$$\begin{array}{r} 650 \\ - 180 \\ \hline \end{array}$$

ב|
$$\begin{array}{r} 3,030 \\ - 125 \\ \hline \end{array}$$

ג|
$$\begin{array}{r} 1,200 \\ - 73 \\ \hline \end{array}$$

ד|
$$\begin{array}{r} 820 \\ + 260 \\ \hline \end{array}$$

ה|
$$\begin{array}{r} 4,527 \\ + 183 \\ \hline \end{array}$$

ו|
$$\begin{array}{r} 1,353 \\ + 5,249 \\ \hline \end{array}$$

5 השלימו:

א| $5,909 + \underline{\hspace{2cm}} = 5,910$ ג| $6,142 - \underline{\hspace{2cm}} = 6,042$

ב| $3,900 + \underline{\hspace{2cm}} = 4,000$ ד| $2,000 - \underline{\hspace{2cm}} = 1,990$

6 השלימו:

א| $2,990 + \underline{\hspace{2cm}} < 3,000$ ג| $4,700 + \underline{\hspace{2cm}} = 5,000$

ב| $4,320 - \underline{\hspace{2cm}} < 3,000$ ד| $5,098 - \underline{\hspace{2cm}} = 5,000$

7 לפניכם תרגיל פתור: $1,453 + 2,968 = 4,421$

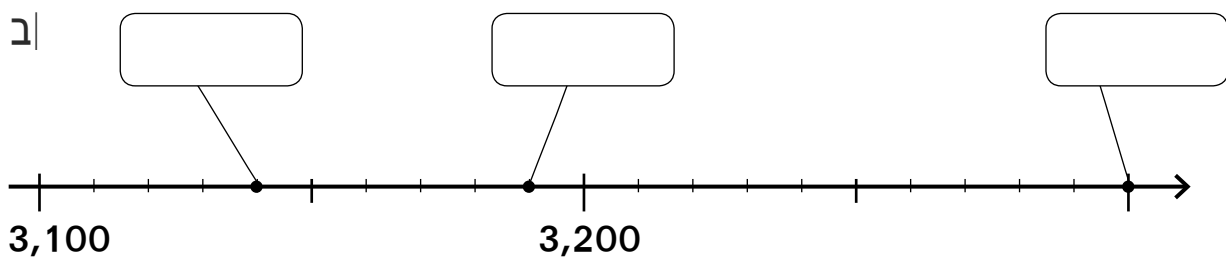
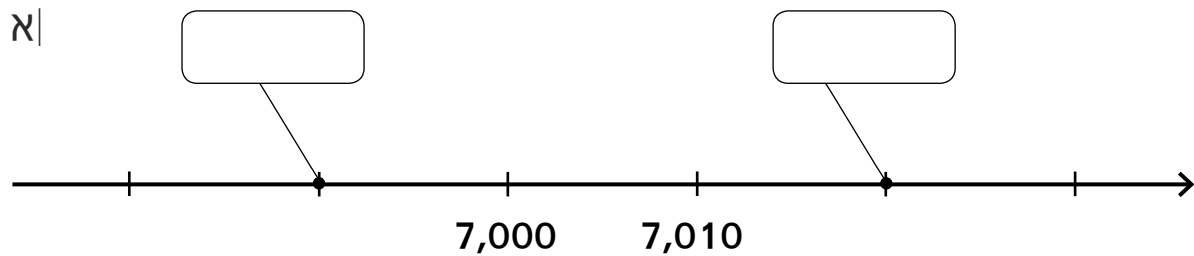
פתרו בעזרתו את התרגילים האלה:

א| $1,553 + 2,968 = \underline{\hspace{2cm}}$

ב| $1,454 + 2,969 = \underline{\hspace{2cm}}$



8 השלימו מספרים מתאימים לנקודות המסמנות על ישר המספרים.



9 בחנות מכשירי החשמל:

תנור אפיה



1,865 ש"ח

מיבש כביסה



2,120 ש"ח

מדיח כלים



2,260 ש"ח

מיקרוגל



1,722 ש"ח

שני המוצרים שקנה רפי עלו יותר מ-4,000 ש"ח.
מה קנה רפי? כתבו שתי אפשרויות שונות.

א.

ב.
