

כפול עד 10,000


(ליחידות א-ג, עמודים 53-5 בחוברת לתלמיד)

מבדק


שמי: _____

1 פתרו על ידי קפיצות על ישר המספרים.

א | $18 \times 4 =$ _____



ב | $150 \times 5 =$ _____



2 פתרו:

א | $15 \times 10 =$ _____

ב | $6 \times 40 =$ _____

$15 \times 100 =$ _____

$6 \times 400 =$ _____

$60 \times 40 =$ _____

3 כתבו + או - או \times כך שיתקבל תרגיל פתור נכון.

א | $20 \dots 100 = 120$

ה | $50 \dots 30 = 1,500$

ב | $20 \dots 10 = 200$

ו | $50 \dots 10 = 500$

ג | $20 \dots 10 = 10$

ז | $50 \dots 100 = 5,000$

ד | $20 \dots 100 = 2,000$

ח | $50 \dots 30 = 20$

המשך ▶

4 השלימו אם אפשר.

כתבו בכל משבצת ספרה אחת בלבד.

א) $\boxed{\quad}\boxed{\quad} \times 10 = \boxed{\quad}\boxed{\quad}\boxed{0}$ ג) $\boxed{\quad}\boxed{\quad} \times 100 = \boxed{\quad}\boxed{\quad}\boxed{5}\boxed{0}$

ב) $\boxed{\quad}\boxed{\quad} \times 20 = \boxed{\quad}\boxed{\quad}\boxed{\quad}\boxed{5}$ ד) $\boxed{2}\boxed{\quad} \times 10 = \boxed{2}\boxed{\quad}\boxed{0}$

5 פתרו על ידי פלוג לפי המבנה העשרוני (אפשר להעזר בציורי מלבנים).

א) $12 \times 7 =$ _____

ב) $6 \times 23 =$ _____

ג) $62 \times 5 =$ _____

ד) $230 \times 4 =$ _____

ה) $304 \times 7 =$ _____

ו) $3 \times 213 =$ _____

המשך ▶


6 פְּתוּר:



א | בְּחֹבֶרֶת יֵשׁ 18 עֲמוּדִים.
בְּכָל עֲמוּד יֵשׁ 5 צִיּוּרִים.
כַּמָּה צִיּוּרִים יֵשׁ בְּחֹבֶרֶת?

תְּרַגֵּל: _____

תְּשׁוּבָה: _____



ב | מְחִיר מְחֹבֶרֶת הוּא 4 שְׁקָלִים.
מָה מְחִירוֹן שֶׁל 32 מְחֹבְרוֹת?

תְּרַגֵּל: _____

תְּשׁוּבָה: _____

7 הַשְּׁלִימוּ:

א | $14 \times 6 > \underline{\hspace{2cm}}$

ג | $16 \times 3 < \underline{\hspace{2cm}}$

ב | $123 \times 3 = \underline{\hspace{2cm}}$

ד | $62 \times 5 = \underline{\hspace{2cm}}$

כּפּל עַד 10,000

(ליחידה ד, עמודים 56-81 בחוברת לתלמיד)

מבדק

שְׁמִי: _____

פְּתוּר:

1

א|

	אל'	מא'	עש'	יח'
×		2	1	8
				4
				זְכָרוֹן

ב|

	אל'	מא'	עש'	יח'
×			2	4
				9
				זְכָרוֹן

ג|

	אל'	מא'	עש'	יח'
×		3	7	5
				3
				זְכָרוֹן

ד|

	אל'	מא'	עש'	יח'
×		6	0	4
				7
				זְכָרוֹן

הַמְּשֵׁר ◀

ה|

	אל'	מא'	עש'	יח'	
×	1	5	8	1	
				4	
					זכרון

ו|

	אל'	מא'	עש'	יח'	
×		7	6	8	
				8	
					זכרון

2 כתבו כל תרגיל במאנף ופתרו.

א| $378 \times 8 = \underline{\hspace{2cm}}$

ב| $1,067 \times 5 = \underline{\hspace{2cm}}$

המשך ◀

3 פתרו.

א|

	אל'	מא'	עש'	יח'
×		5	7	1
				8

ב|

	אל'	מא'	עש'	יח'
×			6	7
				4

ג|

	אל'	מא'	עש'	יח'
×		4	3	7
				6

ד|

	אל'	מא'	עש'	יח'
×	2	5	1	6
				3

ה|

	אל'	מא'	עש'	יח'
×		2	3	0
				4

ו|

	אל'	מא'	עש'	יח'
×	1	0	9	4
				3

4 כתבו כל תרגיל במאנך ופתרו.

א| $487 \times 3 = \underline{\hspace{2cm}}$

ב| $207 \times 6 = \underline{\hspace{2cm}}$

ג| $1,245 \times 8 = \underline{\hspace{2cm}}$
