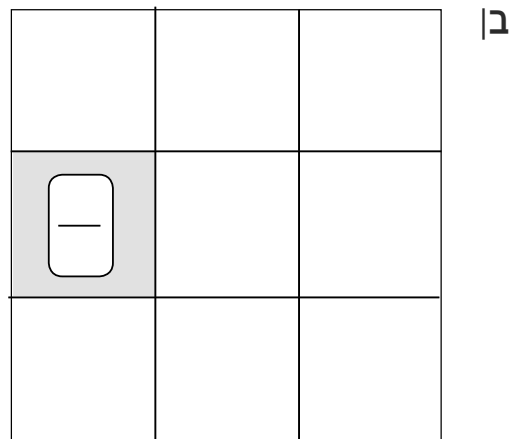
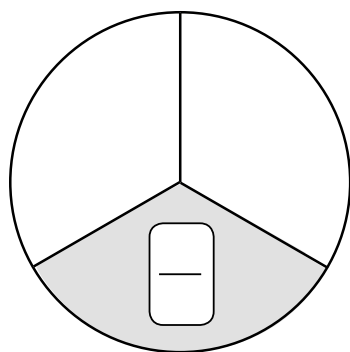



שְׁמִי: _____




1

בְּכָל סְעִיף הַצֹּרֵחַ הַמְצַפֶּרֶת הִיא הַשָּׁלֵם.
כְּתוּבוּ עַל כָּל חֵלֶק צְבוּעַ אֶת הַשֶּׁבֶר הַמְתָּאִים לוֹ.



2

א. חֲלִקוּ כָּל מַלְבָּן ל-3 חֲלָקִים שְׂוִים.

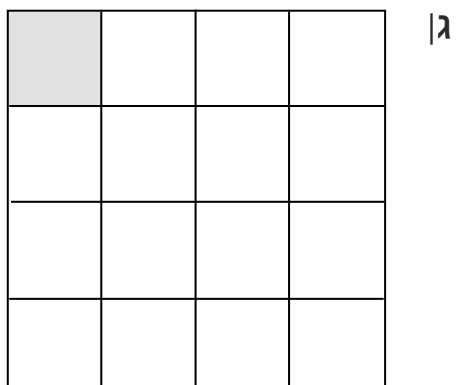


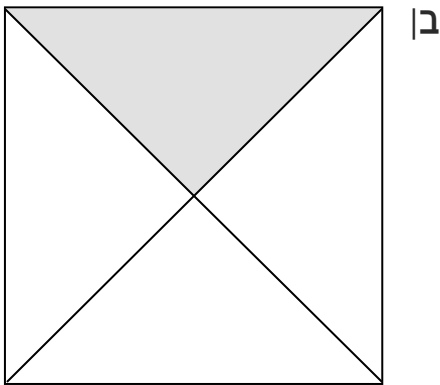


הַמְּשֵׁר ◀

- ב. השלימו: כל אחד מהחלקים שהתקבלו הוא מהמלבן.
 במלבן אחד יש _____ שלישים.
 בשני מלבנים יש _____ שלישים.
 בשלושה מלבנים יש _____ שלישים.

2 בכל סעיף הרבוע הוא השלם.

הקיפו את הרבועים שבהם לחלק הצבוע מתאים השבר $\frac{1}{4}$ (רבע).

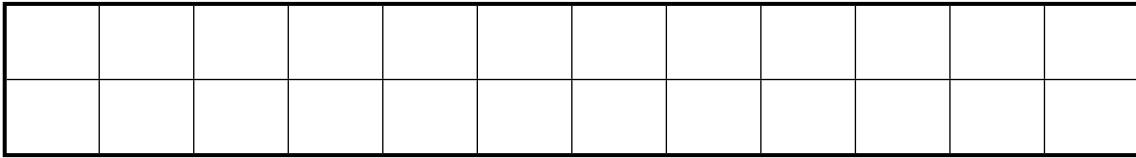


המשך ◀

4 א. צַבְעוּ $\frac{1}{6}$ מִלְבָּן.

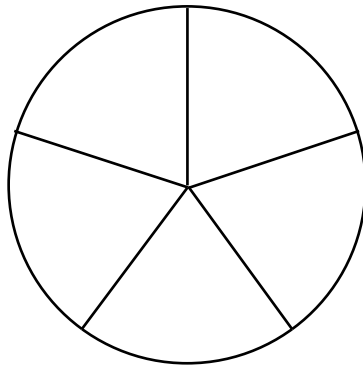


ב. צַבְעוּ $\frac{1}{4}$ מִלְבָּן.



ג. כְּתוּבוּ $\frac{1}{6}$ או $\frac{1}{4}$ או $\frac{1}{6} = \frac{1}{4}$.

5 הִנֵּה צִיור שֶׁל עוּגָה:



א. צִירוּ עַל הָעוּגָה 15 סְכָרִיּוֹת, כִּךְ שֶׁעַל כָּל פְּרוּסָה יִהְיֶה מְסָפֵר שׁוֹה שֶׁל סְכָרִיּוֹת.

ב. הַשְּׁלִימוּ: מִ-15 סְכָרִיּוֹת הֵן _____ סְכָרִיּוֹת $\frac{1}{5}$.